



**КЫРГЫЗ РЕСПУБЛИКАСЫНЫН БИЛИМ БЕРҮҮ ЖАНА ИЛИМ  
МИНИСТРЛИГИ  
БИЛИМ БЕРҮҮНҮН САПАТЫН БААЛОО ЖАНА МААЛЫМАТ  
ТЕХНОЛОГИЯЛАРДЫН УЛУТТУК БОРБОРУ**

**ОКУУЧУЛАРДЫН БИЛИМ ЖЕТИШКЕНДИКТЕРИН БААЛОО**

*Математика  
Кыргыз тили  
Окуу жана түшүнүү*

**5-КЛАСС**

**В ВАРИАНТЫ**

Областы, шаары, району

---

---

Мектеп

Мектептин коду:

--	--

( администратор толтурат)

Окуучунун аты-жөнү

---

Окуучунун идентификациялык

номери: (администратор толтурат)

--	--



# Математика

## 1-Бөлүм

**№ 1.** Туюнтманын маанисин тапкыла:

$$14 \cdot 5 + 42 : 2 =$$

- А) 91
- Б) 89
- В) 69
- Г) 81

**№ 2.** 280617 саны кайсы туюнтманын мааниси болот?

- А)  $280000+60000+100+70$
- Б)  $200000+80000+6000+100+70$
- В)  $200000+80000+600+10+7$
- Г)  $200000+8000+600+10+7$

**№ 3.** Кемитүүдө компоненттер кандай аталат?

- А) бөлүнүүчү, бөлүүчү, тийинди
- Б) көбөйүүчү, көбөйтүүчү, көбөйтүндү
- В) кошулуучу, кошуучу, сумма
- Г) кемүүчү, кемитүүчү, айырма

**№ 4.** Теңдемени чыгаргыла:  $x + 52 = 94$

- А) 42
- Б) 146
- В) 52
- Г) 156

**№ 5.** Теңдемени чыгаргыла:  $170 : x = 5$

- А) 850
- Б) 5350
- В) 340
- Г) 34

**№ 6.**  $24 \cdot 220$  туюнтмасын, мааниси өзгөрүлбөгөндөй кылып дагы кандай түрдө жазууга болот?

- А)  $24 \cdot (200 \cdot 20)$
- Б)  $6 \cdot 4 + 11 \cdot 20$
- В)  $24 \cdot (11 \cdot 20)$
- Г)  $24 \cdot 200 + 20$

**№ 7.** Кайсы туюнтмада, амалдарды аткаруу тартиби туура көрсөтүлгөн?

2 3 1

А)  $500+(280-120)\cdot 2$

1 2 3

Б)  $360:9+120\cdot 3$

3 1 2

В)  $600-(20\cdot 5+100)$

3 2 1

Г)  $900-200+60\cdot 2$

**№ 8.** 1 центнерде канча грамм бар?

А) 100000

Б) 10000

В) 1000

Г) 100

**№ 9.** 350 дм де...бар.

А) 3 м 500 см

Б) 30 м 50 дм

В) 30 м 50 см

Г) 3 м 5 дм

**№ 10.** Кайсы барабарсыздык туура?

А) 7 мин 60 с > 760 с

Б) 29 ц 5 кг > 295 кг

В) 1 км 200 м < 1200 м

Г) 5 т 40 кг > 5 т 40 ц

**№ 11.** 1558 санын 23 кө бөлгөндө канча калдык калат?

А) 17

Б) 27

В) 7

Г) 0

**№ 12.**  $6\cdot x=6+6+6$  теңдемедеги белгисиздин маанисин тапкыла.

А) 2

Б) 1

В) 3

Г) 4

**№ 13.** Ойлонулган санды 40 ка бөлсө 50 болду. Кайсы сан ойлонулган?

- А) 20
- Б) 200
- В) 2000
- Г) 10

**№ 14.** 2 санынын кубу ... барабар.

- А) 4
- Б) 10
- В) 6
- Г) 8

**№ 15.** Спорт ийриминин сабактары 1 саат 30 мүнөткө созулса жана ал сабактар 17 саат 15 мүнөттө бүткөн болсо, саат канчада башталган болот?

- А) 15 саат 45 мүнөттө
- Б) 16 саат 15 мүнөттө
- В) 15 саат 55 мүнөттө
- Г) 16 саат 05 мүнөттө

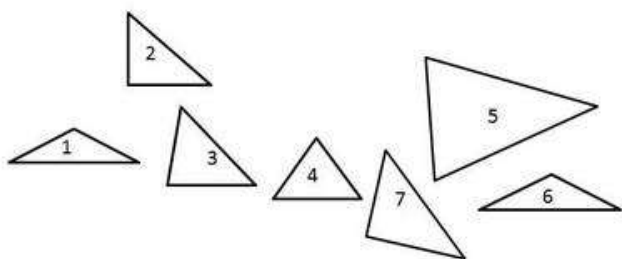
**№ 16.** Бала 5 км ди 1 саатта басып өттү. Ушул эле ылдамдык менен 2 саатта канча км ди басып өтөт?

- А) 15 км
- Б) 6 км
- В) 10 км
- Г) 12 км

**№ 17.** Жактары 5 см болгон квадраттын периметри...барабар.

- А) 25  $\text{см}^2$
- Б) 10  $\text{см}$
- В) 20  $\text{см}^2$
- Г) 20  $\text{см}$

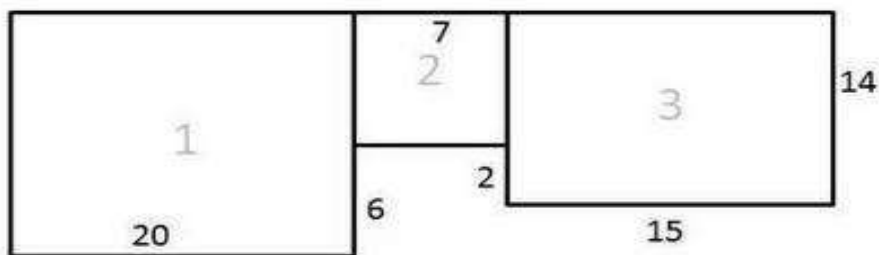
**№ 18.** Сүрөттөрдүн ичинен тик бурчтуу үч бурчтуктардын номерлерин көрсөткүлө.



- А) 3, 4, 5
- Б) 1, 6
- В) 2, 7
- Г) 2, 3, 5

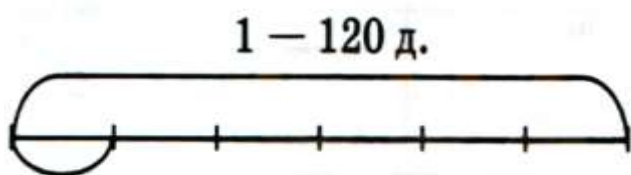
## 2-Бөлүм

№ 19. Сүрөттө 3 тик бурчтуу төрт бурчтуктар өлчөмдөрү менен көрсөтүлгөн. Фигуралардын жалпы аянтын тапкыла.



Жообу: \_\_\_\_\_

№ 20. Бакчада 120 бак бар. Анын  $\frac{1}{6}$  бөлүгү алча. Бул бакчада канча алча багы бар?



Жообу: \_\_\_\_\_