

Математика

PISAга багытталган тест

5-класс

Оң жактагы текстти окугула.

1-тапшырма.

Кайсы аймакка 4 ай ичинде эң көп жаан-чачын жааган?

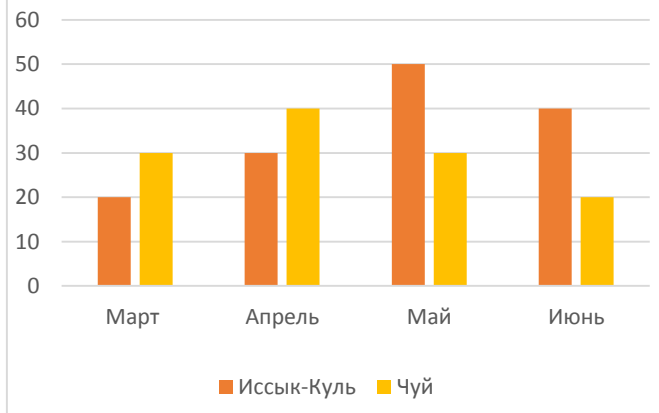
Бир туура жоопту тандагыла:

- А) Ысык-Көлгө
- Б) Чүйгө
- В) Бирдей эле

Жаан-чачын

Жаан-чачындын деңгээли айыл чарба өсүмдүктөрүнүн (түшүмдүүлүк, мал чарбачылыгы үчүн жайыттар) өнүгүшүнө жакшы таасирин тийгизет. Диаграммада Чүй жана Ысык-Көл облустарынын 4 айдагы жаан-чачындын орточо көрсөткүчтөрү берилген.

Жаан-чачын (мм)



Тапшырманын мүнөздөмөсү

- Баалоонун мазмундук чөйрөсү: сан
- Баалоо компетенттүүлүгү: чечмелөө
- Контекст: илимий
- Деңгээли: орточо
- Жооптун форматы: бир туура жоопту тандоо
- Баалоо объекти: диаграммаларды окуу
- Максималдык балл: 1 упай
- Баалоо жолу: компьютердик

Баалоо системасы

Балл	Критерийдин мазмуну
1	А) Ысык-Көлгө
0	Башка жооп тандалса, же жооп жок болсо.

Он жактагы текстти окугула.

2-тапшырма.

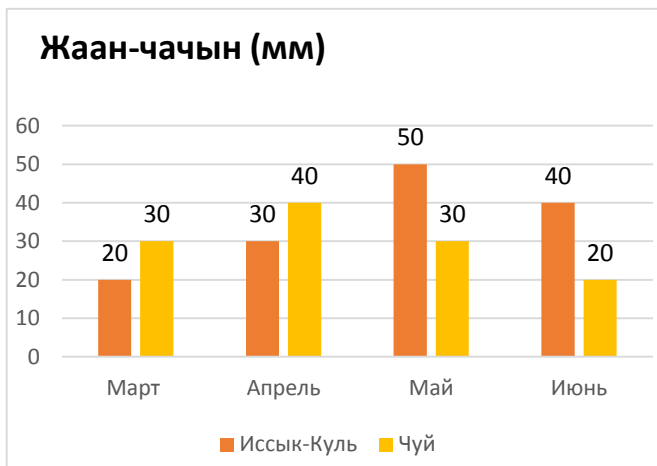
Ысык-Көл облусунда жаан-чачын кайсы айда көп жааган?

Бир туура жоопту тандагыла:

- А) Март
- Б) Май
- В) Апрель
- Г) Июнь

Жаан-чачын

Жаан-чачындын деңгээли айыл чарба өсүмдүктөрүнүн (түшүмдүүлүк, мал чарбачылыгы үчүн жайыттар) өнүгүшүнө жакшы таасирин тийгизет. Диаграммада Чүй жана Ысык-Көл облустарынын 4 айдагы жаан-чачындын орточо көрсөткүчтөрү берилген.



Тапшырманын мүнөздөмөсү

- Баалоонун мазмуну: белгисиздик жана маалыматтар
- Баалоо компетенттүүлүгү: ой жүгүртүү
- Контекст: илимий
- Деңгээли: төмөнкү
- Жооптун форматы: бир туура жоопту тандоо
- Баалоонун объектиси: ой жүгүртүү жөндөмү
- Максималдык балл: 1 балл
- Баалоо жолу: компьютердик

Баалоо системасы

Балл	Критерийдин мазмуну
1	Б) Май
0	Башка жооп тандалса, же жооп жок болсо.

Оң жактагы текстти окугула.

3-тапшырма.

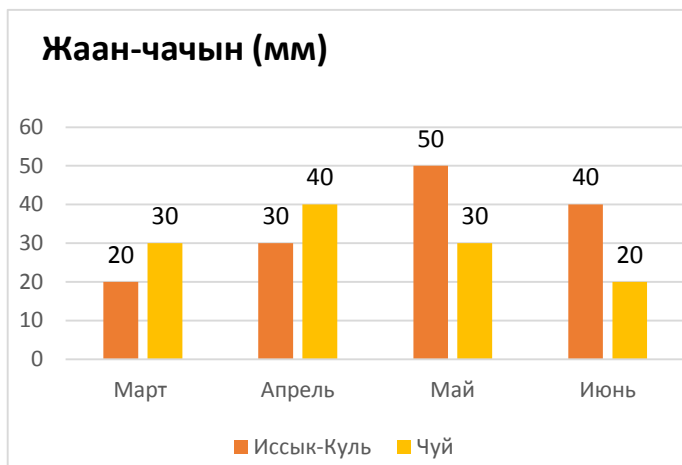
Чүй облусунда жааган 4 айлык жаан-чачындын орточо өлчөмү канча миллиметрди түзөт?

Бир туура жоопту тандагыла:

- А) 30
- Б) 35
- В) 40
- Г) 45

Жаан-чачын

Жаан-чачындын деңгээли айыл чарба өсүмдүктөрүнүн (түшүмдүүлүк, мал чарбачылыгы үчүн жайыттар) өнүгүшүнө жакшы таасирин тийгизет. Диаграммада Чүй жана Ысык-Көл облустарынын 4 айдагы жаан-чачындын орточо көрсөткүчтөрү берилген.



Тапшырманын мүнөздөмөсү

- Баалоонун мазмундук чөйрөсү: белгисиздик жана маалыматтар
- Баалоонун компетенттүүлүк чөйрөсү: колдонуу
- Контекст: илимий
- Деңгээли: төмөнкү
- Жооптун форматы: бир туура жоопту тандоо
- Баалоо объектиси: орточо арифметикалык маанини таба билүү
- Максималдык балл: 1 балл
- Баалоо жолу: компьютердик

Баалоо системасы

Балл	Критерийдин мазмуну
1	А) 30
0	Башка жооп тандалса же, жооп жок болсо.